

Nazwa kwalifikacji: **Szkolenie i użytkowanie koni**Oznaczenie kwalifikacji: **RL.20**Wersja arkusza: **SG**Czas trwania egzaminu: **60 minut**

RL.20-SG-23.01

EGZAMIN POTWIERDZAJĄCY KWALIFIKACJE W ZAWODZIE**Rok 2023****CZĘŚĆ PISEMNA****PODSTAWA PROGRAMOWA
2017****Instrukcja dla zdającego**

1. Sprawdź, czy arkusz egzaminacyjny zawiera 12 stron. Ewentualny brak stron lub inne usterki zgłoś przewodniczącemu zespołu nadzorującego.
2. Do arkusza dołączona jest KARTA ODPOWIEDZI, na której w oznaczonych miejscach:
 - wpisz oznaczenie kwalifikacji,
 - zamaluj kratkę z oznaczeniem wersji arkusza,
 - wpisz swój numer PESEL*,
 - wpisz swoją datę urodzenia,
 - przyklej naklejkę ze swoim numerem PESEL.
3. Arkusz egzaminacyjny zawiera test składający się z 40 zadań.
4. Za każde poprawnie rozwiązane zadanie możesz uzyskać 1 punkt.
5. Aby zdać część pisemną egzaminu musisz uzyskać co najmniej 20 punktów.
6. Czytaj uważnie wszystkie zadania.
7. Rozwiązania zaznaczaj na KARCIE ODPOWIEDZI długopisem lub piórem z czarnym tuszem/atramentem.
8. Do każdego zadania podane są cztery możliwe odpowiedzi: A, B, C, D. Odpowiada im następujący układ krater w KARCIE ODPOWIEDZI:

A	B	C	D
---	---	---	---

9. Tylko jedna odpowiedź jest poprawna.
10. Wybierz właściwą odpowiedź i zamaluj kratkę z odpowiadającą jej literą – np., gdy wybrałeś odpowiedź „A”:

<input checked="" type="checkbox"/>	B	C	D
-------------------------------------	---	---	---

11. Staraj się wyraźnie zaznaczać odpowiedzi. Jeżeli się pomylisz i błędnie zaznaczysz odpowiedź, otocz ją kółkiem i zaznacz odpowiedź, którą uważasz za poprawną, np.

<input checked="" type="checkbox"/>	B	C	<input checked="" type="checkbox"/>
-------------------------------------	---	---	-------------------------------------

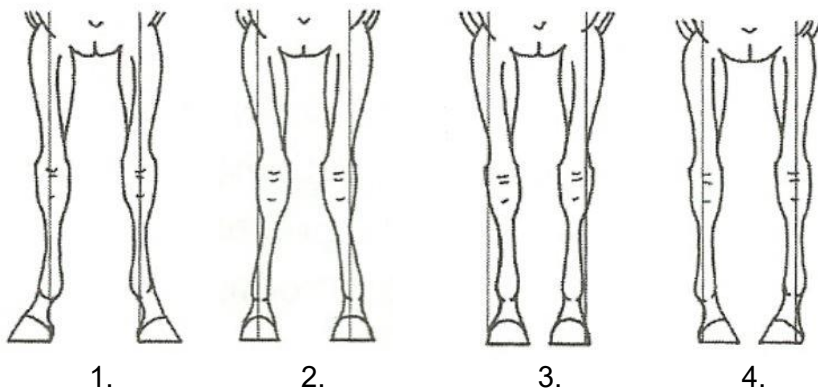
12. Po rozwiązaniu testu sprawdź, czy zaznaczyłeś wszystkie odpowiedzi na KARCIE ODPOWIEDZI i wprowadziłeś wszystkie dane, o których mowa w punkcie 2 tej instrukcji.

Pamiętaj, że oddajesz przewodniczącemu zespołu nadzorującego tylko KARTĘ ODPOWIEDZI.**Powodzenia!**

* w przypadku braku numeru PESEL – seria i numer paszportu lub innego dokumentu potwierdzającego tożsamość

Zadanie 1.

Który rysunek przedstawia postawę francuską ustawienia nóg przednich konia?

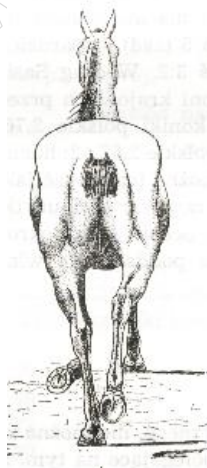


- A. Rysunek 1.
- B. Rysunek 2.
- C. Rysunek 3.
- D. Rysunek 4.

Zadanie 2.

Wada chodu u konia, przedstawiona na rysunku to

- A. szłap.
- B. ściganie.
- C. caplowanie.
- D. bilardowanie.



Zadanie 3.

Schorzenie występujące u młodych koni wyścigowych pełnej krwi angielskiej podczas pierwszego sezonu pracy objawiające się zmianami na przedniej stronie nadpęcia to

- A. opoje.
- B. obrączka.
- C. bukszyny.
- D. nakostniaki.

Zadanie 4.

Na podstawie podanego wieku, rasy i wymiarów konia, wskaż konia o najlepszych predyspozycjach do skoków przez przeszkody.

- A. 6-letni ogier rasy zimnokrwistej w typie sztumskim, o wymiarach 161-215-25.
- B. 11-letni wałach, rasy polski koń sportowy, o wymiarach 170-200-22,5.
- C. 4-letnia klacz rasy pełnej krwi angielskiej, o wymiarach 160-180-20.
- D. 14-letni ogier rasy czystej krwi arabskiej, o wymiarach 155-180-19.

Zadanie 5.

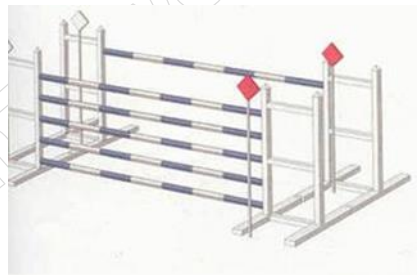
Wskaż konia najbardziej przydatnego w hipoterapii.

- A. 5-letnia klacz rasy małopolskiej o wymiarach 166 -186– 21 cm.
- B. 9-letni wałach rasy huculskiej, o wymiarach 138 – 170 – 21 cm.
- C. 13-letni ogier rasy zimnokrwistej o wymiarach 170 – 210 - 28 cm.
- D. 15-letnia klacz rasy śląskiej o wymiarach 171- 203 - 24 cm.

Zadanie 6.

Przeszkoda przedstawiona na rysunku to

- A. okser.
- B. stacjonarna.
- C. triplebarre.
- D. doublebarre.



Zadanie 7.

Wysokość przeszkód w konkursie klasy P w skokach przez przeszkody wynosi

- A. 110 cm.
- B. 120 cm.
- C. 130 cm.
- D. 140 cm.

Zadanie 8.

Przyrząd przedstawiony na rysunku służy do

- A. wyciągania nadmiaru sierści w okresie silnego linienia koni.
- B. ściągania nadmiaru wody z sierści konia po kąpiel.
- C. usuwania wypadniętej sierści po czyszczeniu konia.
- D. przerywania i formowania grzywy konia.



Zadanie 9.

Wskaż zalecany strój prezentera w czasie pokazów hodowlanych.

- A. Kaszkiet, biała koszulka polo, białe spodnie, buty sportowe, białe rękawiczki.
- B. Czapeczka z daszkiem, czarny T-shirt, czarne spodnie, buty sportowe, rękawiczki.
- C. Kask ochronny, czerwony rajtrok, biała koszula, biały krawat, białe bryczesy, czarne oficerki.
- D. Toczek, ciemna marynarka w kratę, ciemna koszula z krawatem, czarne bryczesy, czarne oficerki.

Zadanie 10.

Prawidłowo wykonana prezentacja konia przed komisją w ruchu na trójkącie odbywa się

- A. w lewą stronę w kłusie i w stępie.
- B. w prawą stronę w stępie i w kłusie.
- C. w stępie w lewą stronę, w kłusie w prawą stronę.
- D. w stępie w prawą stronę, w kłusie w lewą stronę.

Zadanie 11.

Przedstawiona na rysunku infekcja skóry u konia to

- A. opoje.
- B. gruda.
- C. grzybica.
- D. odsednienie.



Zadanie 12.

Przedstawiony katalog zachowań konia:

- manifestacja bólu grzbietu,
- złość przy czyszczeniu, siodłaniu,
- nerwowe dreptanie przy wsiadaniu,
- problemy z galopem i ustawieniem,
- odmowa skoków,
- wierzganie, ponoszenie,
- kulawizna

może wskazywać na wystąpienie

- A. RAO – Nawracająca Choroba Obturacyjna Koni.
- B. KSS - Kissing Spine Syndrome.
- C. ochwatu.
- D. rorera.

Zadanie 13.


Które badanie stanu zdrowia konia przedstawiono na rysunku?

- A. Stan odwodnienia organizmu.
- B. Wypełnienia żyły jarzmowej.
- C. Stan napięcia mięśni.
- D. Pomiar tętna.



Zadanie 14.

Które urządzenie **nie występuje** w stajni lub jej otoczeniu i **nie jest przeznaczone** dla koni?



Urządzenie 1.



Urządzenie 2.



Urządzenie 3.



Urządzenie 4.

- A. Urządzenie 1.
- B. Urządzenie 2.
- C. Urządzenie 3.
- D. Urządzenie 4.

Zadanie 15.

Minimalne wymiary boksu dla dorosłego konia o wysokości w kłębie 166 cm wynoszą

- A. 5 m x 3 m
- B. 4 m x 3 m
- C. 3 m x 3 m
- D. 2 m x 3 m

Zadanie 16.

Konie ras półkrwi zajeżdża się pod siodłem w wieku

- A. 12 miesięcy.
- B. 1,5 roku.
- C. 3 lat.
- D. 5 lat.

Zadanie 17.

Za które przystęły przypina się popręg do siodła na standardowym koniu (licząc od lewej)?

- A. Pierwszą i drugą.
- B. Drugą i trzecią.
- C. Pierwszą i trzecią.
- D. Tylko za środkową.

Zadanie 18.

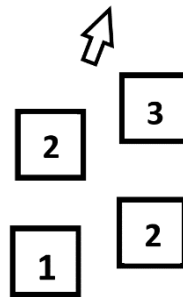
Odległość pomiędzy kolejnymi koziołkami (cavaletti) ustawionymi do ćwiczeń w stępie, kłusie i galopie wynosi odpowiednio:

- A. 170 cm (stęp), 250 cm (kłus), 450 cm (galop).
- B. 140 cm (stęp), 210 cm (kłus), 400 cm (galop).
- C. 110 cm (stęp), 170 cm (kłus), 370 cm (galop).
- D. 80 cm (stęp), 130 cm (kłus), 300 cm (galop).

Zadanie 19.

Który chód konia przedstawiono na schemacie?

- A. Galop z prawej nogi.
- B. Kontrgalop w prawo.
- C. Cwał na lewą nogę
- D. Kłus na lewą nogę.



Zadanie 20.

Działanie jeźdźca przez mocniejsze napinanie krzyża i przyłożenie łydek, prowadzące do zatrzymania konia to

- A. zebranie.
- B. lewada.
- C. parada.
- D. wolta.

Zadanie 21.

„Jeździec siedzący w siodle nie wysiadujący każdego kroku konia, lecz znajdujący oparcie na kolanach i strzemionach unosi się na jeden krok w siodle i miękko w nie wraca.”

Przedstawiony opis dotyczy kłusa

- A. roboczego.
- B. ćwiczebnego.
- C. w pólśiadzie.
- D. anglezowanego.

Zadanie 22.

Do sztucznych pomocy jeździeckich należą:

- A. lejce, głos, bat.
- B. palcat, głos, ostrogi.
- C. dosiad, łydka, wodza.
- D. wędzidło, wzrok, ciężar ciała.

Zadanie 23.

Wstrzymujące działanie wodzy polega na

- A. chwilowym, mocniejszym przymknięciu ręki i odpuszczeniu.
- B. stałym zamknięciu ręki i odpuszczeniu po zatrzymaniu konia.
- C. naprzemiennym (prawa - lewa) nabieraniu wodzy i ciągnięciu wstecz.
- D. stałym zamknięciu ręki i podnoszeniu wodzy do góry z coraz większą siłą.

Zadanie 24.

Brakujący element skali szkoleniowej to

- A. rytm.
- B. zebranie.
- C. równowaga.
- D. przepuszczalność.



Zadanie 25.

Gotowość równomiernie rozluźnionego na obydwie strony i posłusznego konia do przyjmowania bez przymusu pomocy: aktywizujących, wstrzymujących i przesuwających wraz z natychmiastową reakcją konia na pomoce jeźdźca to

- A. przepuszczalność.
- B. prostowane.
- C. jezdność.
- D. impuls.

Zadanie 26.

Na którym rysunku przedstawiono siodło ujeżdżeniowe?



1.



2.



3.

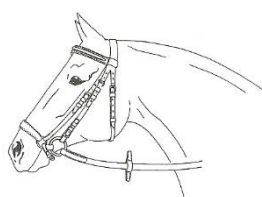


4.

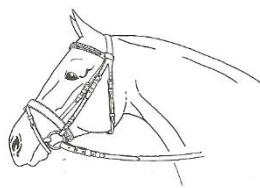
- A. Na rysunku 1.
- B. Na rysunku 2.
- C. Na rysunku 3.
- D. Na rysunku 4.

Zadanie 27.


Wskaż ogłowie wędzidłowe z nachrapnikiem polskim.



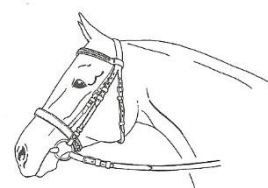
1.



2.



3.



4.

- A. 1.
- B. 2.
- C. 3.
- D. 4.

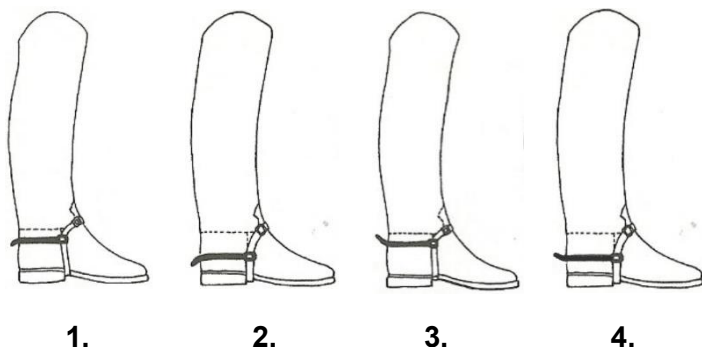
Zadanie 28.

Obowiązkowym wyposażeniem powożącego **nie jest**

- A. bat powożeniowy.
- B. para rękawiczek.
- C. nakrycie głowy.
- D. chusta na szyi.

Zadanie 29.

Wskaż prawidłowe przypięcie ostróg.



- A. 1
- B. 2.
- C. 3.
- D. 4.

Zadanie 30

Wskaż element upręży jednokonnej obejmujący zad konia, który pełni rolę hamulca oraz dzięki niemu pojazd nie najeżdża na zad konia.

- A. Natylnik.
- B. Naszelnik.
- C. Nakarcznik.
- D. Nagrzbietnik.

Zadanie 31.

Powóz konny przedstawiony na rysunku to

- A. wagonetka.
- B. lando.
- C. brek.
- D. gig.



Zadanie 32.

Wskaż miejsce powożącego na bryczce w czasie jazdy.

- A. Na środku.
- B. Z lewej strony.
- C. Z prawej strony.
- D. Nie ma to znaczenia.

Zadanie 33.

Przedstawiony na rysunku zaprzęg to

- A. czwórka w lejc w stylu węgierskim.
- B. czwórka w szydło w stylu angielskim.
- C. czwórka w lejc w stylu śląskim.
- D. czwórka w poręcz w stylu książęcym.



Zadanie 34.

Mydła glicerynowego używa się do

- A. czyszczenia lakierowanych elementów zabytkowych pojazdów konnych.
- B. konserwacji i czyszczenia skórzanych elementów rzędu jeździeckiego.
- C. kąpieli konia tzn. mycia sierści konia.
- D. mycia ogona i grzywy konia.

Zadanie 35.

Który dokument **nie jest** wymagany podczas usługowego transportu kłaczy?

- A. Świadectwo zatwierdzenia środka transportu.
- B. Paszport hodowlany przewożonej kłaczy.
- C. Potwierdzenie kwalifikacji konwojenta.
- D. Świadectwo pokrycia kłaczy.

Zadanie 36.

W czasie transportu ogranicza się koniom paszę

- A. objętościową soczystą.
- B. objętościową suchą.
- C. okopową.
- D. treściwą.

Zadanie 37.

Najpopularniejsza rasa koni wykorzystywana w konnej turystyce górskiej to

- A. koń małopolski.
- B. konik polski.
- C. koń huculski.
- D. kuc feliński.

Zadanie 38.

Zawody TREC we Wszechstronnym Konkursie Konia Turystycznego rozgrywane są w formule

- A. dwóch dni i składają się z trzech faz:
dzień 1: bieg na orientację;
dzień 2: kontrola tempa i próba terenowa.
- B. dwóch dni i składają się z trzech faz:
dzień 1: prezentacja,
dzień 2: próba terenowa i zręczność powożenia.
- C. trzech dni i składają się z trzech faz:
dzień 1: ujeżdżenie,
dzień 2: próba terenowa,
dzień 3: skoki przez przeszkody.
- D. jednodniowej i składają się z dwóch faz
dzień 1: bieg w terenie oraz próby uciągu.

Zadanie 39.

Przedstawiona na rysunku tabliczka umieszczona na szlaku konnym oznacza

- A. szlak konny numer 7.
- B. 7 kilometrów do postoju.
- C. szlak konny za 7 kilometrów.
- D. ograniczenie prędkości do 7 km/h.



Zadanie 40.

Stajnia posiada 10 koni „pod siodło”. Konie pracują pod siodłem 6 dni w tygodniu po 2 godziny. Opłata za godzinę jazdy wynosi 40,00 zł. Oblicz jaki będzie maksymalny przychód stajni zjazd konnych w okresie pełnych 4 tygodni.

- A. 4 800,00 zł
- B. 10 600,00 zł
- C. 15 200,00 zł
- D. 19 200,00 zł

www.EgzaminZawodowy.info

www.EgzaminZawodowy.info