

*Arkusze zawiera informacje prawnie chronione do momentu rozpoczęcia egzaminu*

Układ graficzny © CKE 2016



Nazwa kwalifikacji: **Szkolenie i użytkowanie koni**  
Oznaczenie kwalifikacji: **R.20**  
Wersja arkusza: **X**

**R.20-X-16.01**

Czas trwania egzaminu: **60 minut**

**EGZAMIN POTWIERDZAJĄCY KWALIFIKACJE W ZAWODZIE**  
**Rok 2016**  
**CZĘŚĆ PISEMNA**

**Instrukcja dla zdającego**

1. Sprawdź, czy arkusz egzaminacyjny zawiera 10 stron. Ewentualny brak stron lub inne usterki zgłoś przewodniczącemu zespołu nadzorującego.
2. Do arkusza dołączona jest KARTA ODPOWIEDZI, na której w oznaczonych miejscach:
  - wpisz oznaczenie kwalifikacji,
  - zamaluj kratkę z oznaczeniem wersji arkusza,
  - wpisz swój numer PESEL\*,
  - wpisz swoją datę urodzenia,
  - przyklej naklejkę ze swoim numerem PESEL.
3. Arkusz egzaminacyjny zawiera test składający się z 40 zadań.
4. Za każde poprawnie rozwiązane zadanie możesz uzyskać 1 punkt.
5. Aby zdać część pisemną egzaminu musisz uzyskać co najmniej 20 punktów.
6. Czytaj uważnie wszystkie zadania.
7. Rozwiązania zaznaczaj na KARCIE ODPOWIEDZI długopisem lub piórem z czarnym tuszem/atramentem.
8. Do każdego zadania podane są cztery możliwe odpowiedzi: A, B, C, D. Odpowiada im następujący układ krater w KARCIE ODPOWIEDZI:

A	B	C	D
---	---	---	---

9. Tylko jedna odpowiedź jest poprawna.
10. Wybierz właściwą odpowiedź i zamaluj kratkę z odpowiadającą jej literą – np., gdy wybrałeś odpowiedź „A”:

<input checked="" type="checkbox"/>	B	C	D
-------------------------------------	---	---	---

11. Staraj się wyraźnie zaznaczać odpowiedzi. Jeżeli się pomylisz i błędnie zaznaczysz odpowiedź, otocz ją kółkiem i zaznacz odpowiedź, którą uważasz za poprawną, np.

<input checked="" type="checkbox"/>	B	C	<input checked="" type="checkbox"/>
-------------------------------------	---	---	-------------------------------------

12. Po rozwiązaniu testu sprawdź, czy zaznaczyłeś wszystkie odpowiedzi na KARCIE ODPOWIEDZI i wprowadziłeś wszystkie dane, o których mowa w punkcie 2 tej instrukcji.

**Pamiętaj, że oddajesz przewodniczącemu zespołu nadzorującego tylko KARTĘ ODPOWIEDZI.**

***Powodzenia!***

\* w przypadku braku numeru PESEL – seria i numer paszportu lub innego dokumentu potwierdzającego tożsamość

### Zadanie 1.

W konkurencji WKKW najlepiej sprawdzają się konie

- A. o wrodzonych zdolnościach do ujeżdżenia i gorącym temperamentem.
- B. o dużym posłuszeństwie, mniejszej sprawności wyczynowej.
- C. o dużej zdolności do galopu, odporności i wytrwałości.
- D. o szlachetnym wyglądzie, dużej zdolności do klusa.

### Zadanie 2.

Najlepszym koniem dla 12-letniego chłopca, rozpoczynającego naukę samodzielnej jazdy konnej, będzie

- A. 12-letnia klacz rasy sp.
- B. 3-letni wałach rasy m.
- C. 15-letni ogier rasy oo.
- D. 2-letnia klacz rasy kn.

### Zadanie 3.

Obcy Jeździec w Zakładzie Treningowym dla ogierów lub klaczy wystawiając ocenę – jezdność – ocenia konia biorąc pod uwagę

- A. zespół cech psychicznych, właściwych danemu koniowi, które przejawiają się w jego świadomym działaniu oraz jego stosunek do innych koni i ludzi.
- B. chęć współpracy z jeźdźcem, poddawanie się woli jeźdźcy, podatność na pomoce, miękkość „noszenia” oraz samopoczucie jeźdźcy podczas jazdy.
- C. przeniesienie dynamicznej akcji zadu na ruch całego konia, czy koń jest jezdny, czy energicznie odrywa kończyny od podłoża i w fazie lotu dynamicznie przesuwa swój ciężar ciała do przodu.
- D. postawę uzyskaną przez taki rozwój siły nośnej, w którym poprzez zwiększone ugięcie wszystkich stawów kończyn tylnych łączny ciężar konia i jeźdźcy przesuwa się bardziej do tyłu.

### Zadanie 4.

Konie hodowane w Stadzie Ogierów w Sierakowie, Stadninie Koni Dobrzyniewo i Stacji Badawczej PAN w Popielnie należą do rasy

- A. huculskiej.
- B. fiordzkiej.
- C. konik polski.
- D. wielkopolskiej.

### Zadanie 5.

Do użytkowania zaprzęgowego najlepiej nadaje się rasa koni

- A. pełnej krwi angielskiej.
- B. czystej krwi arabskiej.
- C. małopolskich.
- D. śląskich.

### Zadanie 6.

Która próba **nie jest** rozgrywana podczas zawodów CIC\*\* we Wszechstronnym Konkursie Konia Wierzchowego?

- A. Skoków.
- B. Terenowa.
- C. Zręczności.
- D. Ujeżdżenia.

### Zadanie 7.

Wskaż klasę konkursu, w konkurencji skoków przez przeszkody, w którym przeszkody ustawione są na wysokości 140 cm.

- A. CC
- B. CS
- C. N
- D. C

### Zadanie 8.

Podaj nazwę konkursu, w konkurencji skoków przez przeszkody, w którym zawodnik może na ostatniej przeszkodzie zyskać lub stracić 16 pkt.

- A. Potęgi skoków.
- B. Sześciu barier.
- C. Z Jokerem.
- D. Derby.

### Zadanie 9.

W jakim wieku można rozpocząć pracę pod siodłem z młodym koniem rasy polski koń szlachetny półkrwi?

- A. 1-2 lata.
- B. 3-4 lata.
- C. 5-6 lat.
- D. 7-8 lat.

### Zadanie 10.

Wskaż najlepszy system utrzymania koni w stajni rekreacyjnej.

- A. Boksowy.
- B. Alkierzowy.
- C. Stanowiskowy.
- D. Wolnostanowiskowy.

### Zadanie 11.

Zawody w konkurencji ujeżdżenia rozgrywane są na czworoboku o wymiarach

- A. 20 x 60 m.
- B. 20 x 80 m.
- C. 40 x 80 m.
- D. 40 x 100 m.

### Zadanie 12.

Na torach wyścigów konnych sprawdza się wartość użytkową koni oznaczonych skrótem

- A. xx
- B. sp
- C. wlkp
- D. hc

### Zadanie 13.

Zdjęcie przedstawia niekompletny zestaw do codziennej pielęgnacji koni. Wskaż brakujący element.

- A. Zgrzebło.
- B. Kopystka.
- C. Szczotka do masażu.
- D. Szczotka do długich włosów.



### Zadanie 14.

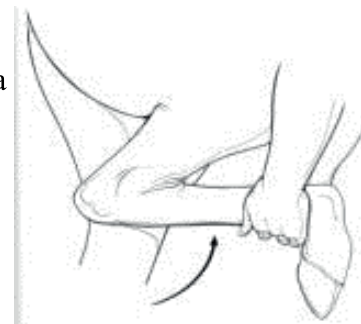
Werkowanie kopyt przeprowadza się

- A. co 2 tygodnie.
- B. 2 razy do roku.
- C. co 6-8 tygodni.
- D. przed jazdą i po każdej jeździe.

### Zadanie 15.

Którą chorobę można zdiagnozować przeprowadzając badanie pokazane na rysunku?

- A. Zapalenie trzeschczek.
- B. Szpat kostny.
- C. Szpotawość.
- D. Sarniak.



### Zadanie 16.

Wada chodu konia polegająca na uderzaniu kopyt o pęcinę, staw pęciny lub nadpęcie drugiej nogi nazywa się

- A. strychowaniem.
- B. bilardowaniem.
- C. werkowaniem.
- D. ściganiem.

### Zadanie 17.

Podczas przeglądu koni na stałe przebywających na wybiegach zauważono, że na pęcinach od tyłu pojawiła się lepka cuchnąca wydzielina i strupki. U koni z obfitym owłosieniem nóg ropne pęcherzyki sięgały znacznie wyżej. Konie podczas przeprowadzania zabiegów pielęgnacyjnych niechętnie podawały nogi. Objawy te świadczą o wystąpieniu

- A. ochwatu.
- B. świerzbu.
- C. zatratu.
- D. grudy.

### Zadanie 18.

Wskaźnik	Norma	Wynik badania
RBC	6 – 12 mln/mm <sup>3</sup>	9,5 mln/mm <sup>3</sup>
WBC	6 – 12 tys/mm <sup>3</sup>	18 tys/mm <sup>3</sup>
Hb	11 – 17 g/100 ml	13 g/100 ml
Ht	32 – 40%	37%

Przedstawiony w tabeli wynik badania hematologicznego krwi konia skoczka wskazuje na

- A. anemię.
- B. odwodnienie organizmu.
- C. stan zapalny w organizmie.
- D. poprawę kondycji trenowanego konia.

### Zadanie 19.

Skaleczenie koronki kopyta to

- A. zatrat.
- B. zastrzał.
- C. zapoprężenie.
- D. zagwożdżenie.

### Zadanie 20.

Zdjęcie przedstawia zaprzęg

- A. piątka w stylu angielskim.
- B. piątka w stylu węgierskim.
- C. piątka w poręcz w stylu polskim.
- D. piątka w lejc w stylu francuskim.



### Zadanie 21.

Przedstawiony na zdjęciu pojazd konny to

- A. spider.
- B. wolant.
- C. wagonetka.
- D. maratonówka.



### Zadanie 22.

Systematyczny trening koni sportowych wymaga włączenia do żywienia większej ilości

- A. paszy treściwej.
- B. otrąb pszennych.
- C. marchwi czerwonej.
- D. paszy objętościowej.

### Zadanie 23.

Naturalne pomoce jeździeckie to:

- A. wycucie jeździeckie, ciężar, ręka.
- B. napięcie krzyża, bat, lejce.
- C. dosiad, łydka, wodza.
- D. głos, palcat, ostrogi.

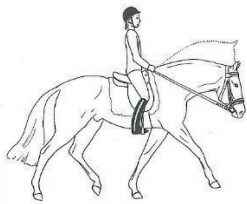
### Zadanie 24.

Przeszkoda złożona z 2 stacjonat ustawionych w odległości od 7,50 do 8 metrów od siebie to


- A. szereg na wskok-wyskok.
- B. szereg na 1 foule.
- C. linia na 2 foule.
- D. okser.

### Zadanie 25.

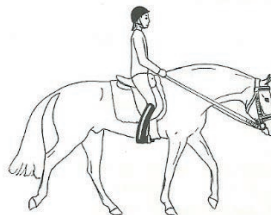
Który rysunek przedstawia ćwiczenie „zucie z ręki” ?



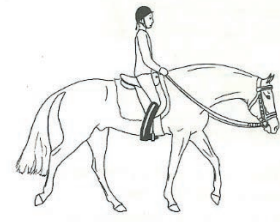
A.



B.



C.




D.

### Zadanie 26.

Rysunek przedstawia schemat wykonania

- A. wolty w lewo.
- B. półwolty w lewo.
- C. odwróconej półwolty w lewo.
- D. zmiany kierunku przez ujeżdżalnię.



### Zadanie 27.

W której konkurencji jeździeckiej używa się siodła przedstawionego na rysunku?

- A. Wyścigi konne.
- B. Ujeżdżenie.
- C. Skoki przez przeszkody.
- D. Rajdy długodystansowe.



### Zadanie 28.

Które z zaprezentowanych wędzideł zaprzęgowych przedstawia wędzidło stosowane w zaprzęgu w stylu angielskim?



A.



B.



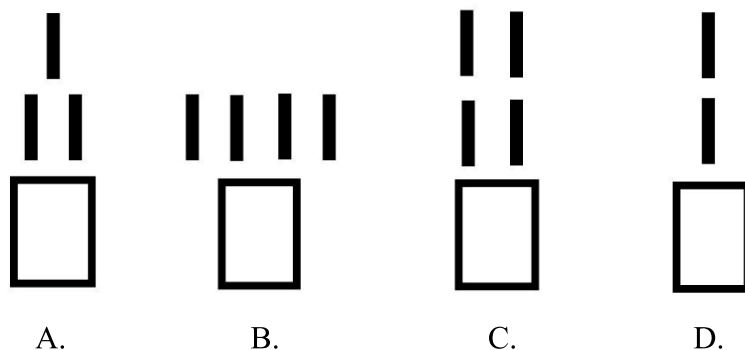
C.



D.

### Zadanie 29.

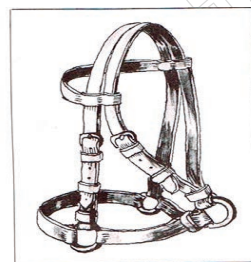
Który schemat przedstawia sposób zaprzęgania koni „w szydło”?



### Zadanie 30.

Na rysunku przedstawiono

- A. ogłowie munsztukowe.
- B. prezenterkę.
- C. uździenicę.
- D. kantar.



### Zadanie 31.

Wskaż prawidłową kolejność wyprowadzania konia z przyczepy dwukonnej do przewozu koni.

- A. Otworzyć tylną klapę, wyjąć belki ogonowe, przy pomocy pomocnika odwiązać konia, wyprowadzić konia.
- B. Wyjąć belki ogonowe, przy pomocy pomocnika odwiązać konia, otworzyć klapę przyczepki, wyprowadzić konia.
- C. Otworzyć klapę przyczepki, przy pomocy pomocnika odwiązać konia, wyjąć belki ogonowe, wycofać konia.
- D. Przy pomocy pomocnika odwiązać konia, otworzyć klapę przyczepki, wyjąć belki ogonowe, wycofać konia.

### Zadanie 32.

Aby zgodnie z przepisami o ruchu drogowym transportować konia w przyczepce 2-osiowej kierowca musi posiadać prawo jazdy

- A. kat. A
- B. kat. B + E
- C. kat. C
- D. kat. D

### Zadanie 33.

Podczas pokonywania przeszkody koń nadwyrężył ścięgno i zaczął kuleć na przednią kończynę. Zachowanie jeźdźca powinno być następujące:

- A. kontynuuje jazdę stępem, bo powinno zaraz przejść.
- B. schodzi z konia, sprawdza kończynę, zdejmuje siodło z grzbietu konia i zaczyna schładzać nogę konia, następnie uraz konsultuje z lekarzem weterynarii.
- C. schodzi z konia, sprawdza kończynę, zdejmuje siodło z grzbietu konia i zaczyna rozcierać ścięgno wcierając maści rozgrzewające, następnie uraz konsultuje z lekarzem weterynarii.
- D. schodzi z konia, odprowadza konia i rozbiera, dokładnie sprawdza kończynę, pozostawia konia w boksie bez pracy przynajmniej tydzień.

### Zadanie 34.

Trening zaprzęgowy w zakładzie treningowym dla ogierów rasy śląskiej oraz ogierów ras szlachejnych w Książu trwa

- A. 60 dni.
- B. 90 dni.
- C. 100 dni.
- D. 150 dni.

### Zadanie 35.

Wskaż komunikat, który został przedstawiony za pomocą schematu.

- A. Uwaga za 7 km zmiana kierunku.
- B. Szlak jeździecki nr 7.
- C. Za 7 km stajnia etapowa.
- D. Za 7 km koniec szlaku.



### Zadanie 36.

Po lasach państwowych można poruszać się konno tylko wtedy, gdy

- A. droga nie jest utwardzona.
- B. mamy uprawnienia instruktora.
- C. nie ma zagrożenia pożarowego.
- D. wyznaczone są oznaczone szlaki.

### Zadanie 37.

Odznaki Jeździeckiej Turystyki Górskiej oraz Odznaki Jeździeckiej Turystyki Nizinnej nadaje

- A. Polskie Towarzystwo Turystyczno-Krajoznawcze.
- B. Towarzystwo Krzewienia Kultury Fizycznej.
- C. Polski Związek Hodowców Koni.
- D. Polski Związek Jeździecki.

### Zadanie 38.

Kto zdobył jedyny złoty medal Igrzysk Olimpijskich dla polskiego jeździectwa w konkurencji skoki przez przeszkody?

- A. Jan Kowalczyk na koniu Artemor na IO w Moskwie w 1980 r.
- B. Marian Kozicki na koniu Bronz na IO w Monachium w 1972 r.
- C. Major Adam Królikiewicz na koniu Picador na IO w Paryżu w 1924 r.
- D. Grzegorz Kubiak na klaczy Djane de Fontenis na IO w Atenach w 2004 r.

### Zadanie 39.

W stajni jest 8 koni rekreacyjnych. Każdy koń otrzymuje dziennie 6 kg owsa, 8 kg siana i około 5 kg słomy. Właściciel ośrodka kupuje siano w balotach po 250 kg i słomę w balotach po 150 kg. Oblicz ile ton owsa, oraz balotów siana i słomy potrzebuje stajnia w miesiącu wrześniu (bez uwzględnienia 10% rezerwy).

- A. Owies – 1,5 tony, siano – 8 balotów, słoma – balotów.
- B. Owies – 1 tona, siano – 10 balotów, słoma – 5 balotów.
- C. Owies – 0,5 tony, siano – 5 balotów, słoma – 3 baloty.
- D. Owies – 3 tony, siano – 30 balotów, słoma – 20 balotów.

### Zadanie 40.

Stajnia posiada 6 koni „pod siodło”. Konie pracują pod siodłem 5 dni w tygodniu po 2 godziny. Opłata za godzinę jazdy wynosi 30 zł. Oblicz jaki jest przychód stajni z jazd konnych w okresie pełnych 4 tygodni.

- A. 1 800 zł
- B. 3 600 zł
- C. 7 200 zł
- D. 8 000 zł

[www.EgzaminZawodowy.info](https://www.Testy.EgzaminZawodowy.info)