

Nazwa kwalifikacji: **Wykonywanie robót murarskich i tynkarskich**  
Symbol kwalifikacji: **BUD.12**  
Numer zadania: **01**  
Wersja arkusza: **SG**

Wypełnia zdający

Numer PESEL zdającego\*

--	--	--	--	--	--	--	--	--	--	--	--	--	--	--	--	--	--	--	--

Miejsce na naklejkę z numerem  
PESEL i z kodem ośrodka

Czas trwania egzaminu: **210** minut.

BUD.12-01-24.01-SG

## EGZAMIN ZAWODOWY

Rok 2024

CZĘŚĆ PRAKTYCZNA

**PODSTAWA PROGRAMOWA**  
**2019**

### Instrukcja dla zdającego

1. Na pierwszej stronie arkusza egzaminacyjnego wpisz w oznaczonym miejscu swój numer PESEL i naklej naklejkę z numerem PESEL i z kodem ośrodka.
2. Na KARCIE OCENY w oznaczonym miejscu przyklej naklejkę z numerem PESEL oraz wpisz:
  - swój numer PESEL\*,
  - oznaczenie kwalifikacji,
  - numer zadania,
  - numer stanowiska.
3. KARTĘ OCENY przekaż zespołowi nadzorującemu.
4. Sprawdź, czy arkusz egzaminacyjny zawiera 4 strony i nie zawiera błędów. Ewentualny brak stron lub inne usterki zgłoś przez podniesienie ręki przewodniczącemu zespołu nadzorującego.
5. Zapoznaj się z treścią zadania oraz stanowiskiem egzaminacyjnym. Masz na to 10 minut. Czas ten nie jest wliczany do czasu trwania egzaminu.
6. Czas rozpoczęcia i zakończenia pracy zapisze w widocznym miejscu przewodniczący zespołu nadzorującego.
7. Wykonaj samodzielnie zadanie egzaminacyjne. Przestrzegaj zasad bezpieczeństwa i organizacji pracy.
8. Jeżeli w zadaniu egzaminacyjnym występuje polecenie „zgłoś gotowość do oceny przez podniesienie ręki”, to zastosuj się do polecenia i poczekaj na decyzję przewodniczącego zespołu nadzorującego.
9. Po zakończeniu wykonania zadania pozostaw rezultaty oraz arkusz egzaminacyjny na swoim stanowisku lub w miejscu wskazanym przez przewodniczącego zespołu nadzorującego.
10. Po uzyskaniu zgody zespołu nadzorującego możesz opuścić salę/miejsce przeprowadzania egzaminu.

**Powodzenia!**

\* w przypadku braku numeru PESEL – seria i numer paszportu lub innego dokumentu potwierdzającego tożsamość

## Zadanie egzaminacyjne

Wykonaj fragment ścianki działowej z cegieł ceramicznych pełnych na zaprawie murarskiej cementowo-wapiennej, w wiązaniu pospolitym, na niepełne spoiny oraz tynk cienkowarstwowy mineralny o fakturze baranka na przygotowanym podłożu.

Zaprawy murarską i tynkarską przygotuj zgodnie z instrukcjami producentów, znajdującymi się na stanowisku egzaminacyjnym.

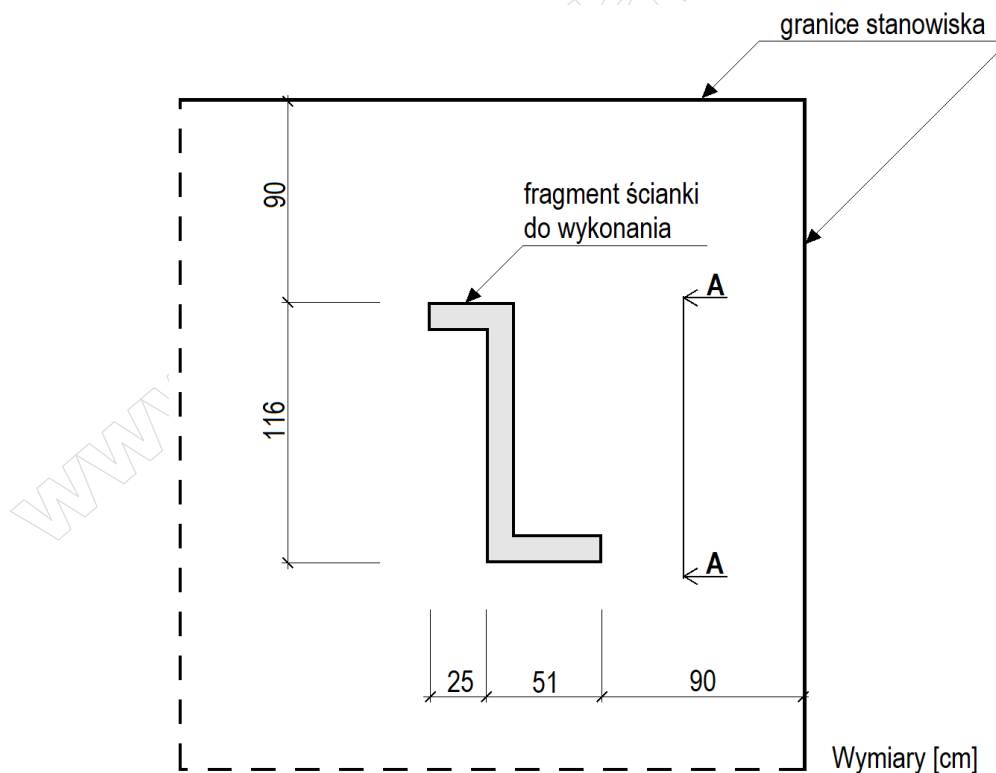
Miejsce usytuowania ścianki działowej wyznacz zgodnie z rysunkiem 1. Następnie wymuruj pięć warstw ścianki zgodnie z rysunkami 2 i 3. Do murowania wykorzystaj przygotowane na stanowisku cegły całe oraz cegły ułamkowe „połówki”.

W trakcie murowania na bieżąco kontroluj i koryguj położenie i wymiary ścianki, grubość spoin pionowych i poziomych, pion krawędzi i powierzchni bocznych, poziom warstw oraz kąty proste w narożach.

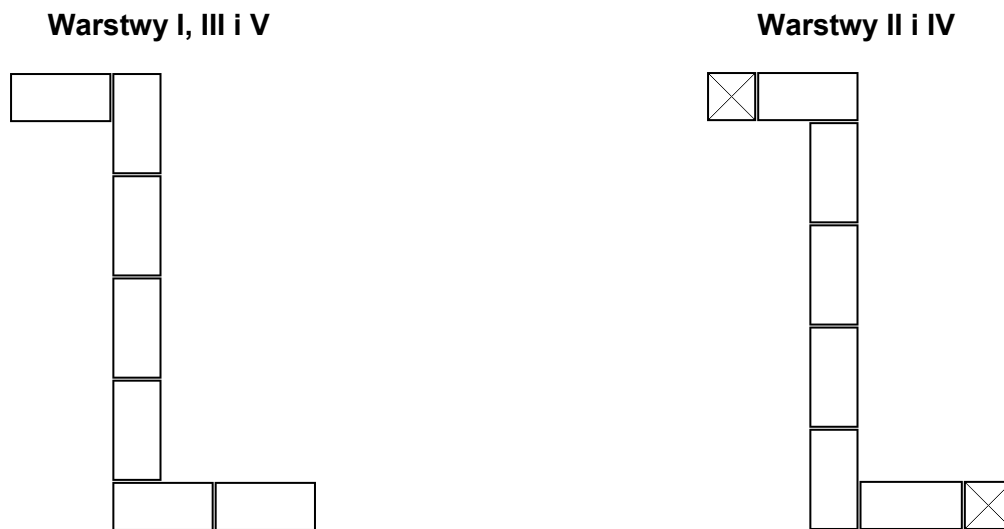
Wyznacz powierzchnię ściany przeznaczoną do tynkowania zgodnie z rysunkiem 4 i wykonaj na niej tynk cienkowarstwowy o fakturze baranka. Podłoże pod tynk jest pokryte warstwą tynku cementowo-wapiennego i zagruntowane.

Zadanie wykonaj zgodnie z wymaganiami dotyczącymi robót murarskich i tynkarskich, zawartymi w specyfikacji technicznej wykonania i odbioru robót budowlanych. Podczas wykonywania zadania przestrzegaj zasad organizacji pracy, przepisów bezpieczeństwa i higieny pracy, przepisów przeciwpożarowych oraz ochrony środowiska.

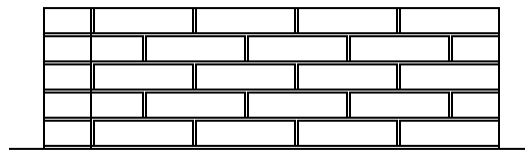
Po wykonaniu zadania uporządkuj stanowisko, oczyść narzędzia i sprzęt, odpady umieść w odpowiednich pojemnikach na odpady.



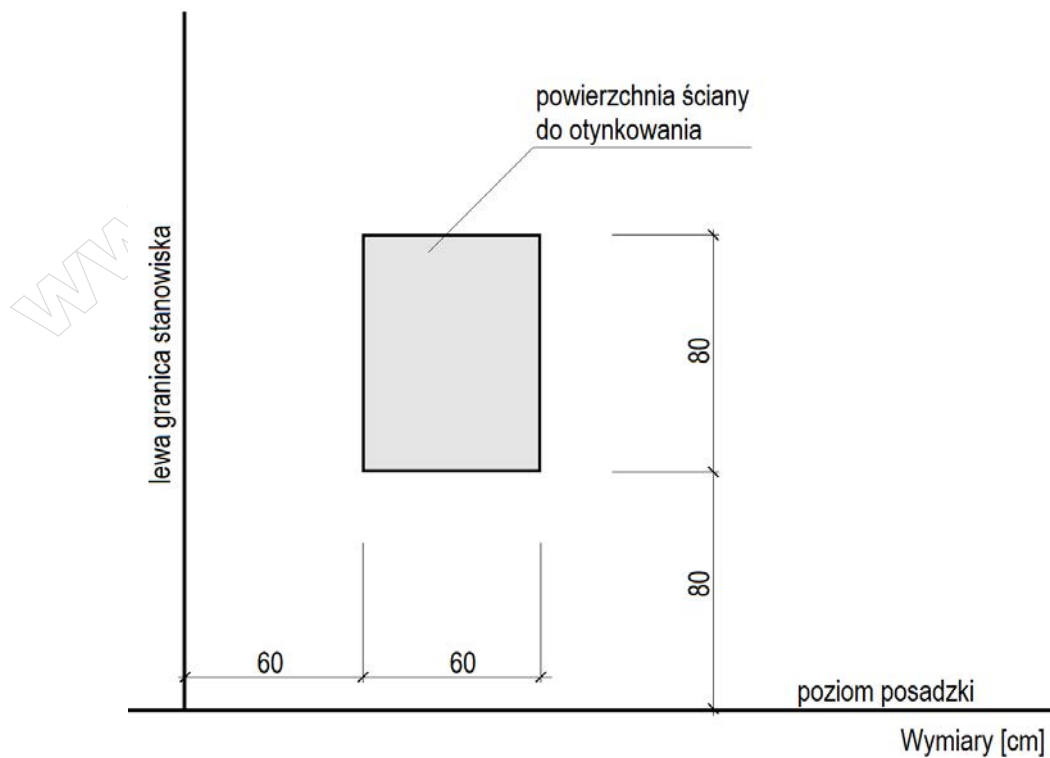
Rysunek 1. Usytuowanie fragmentu ścianki działowej na stanowisku egzaminacyjnym (rzut)



Rysunek 2. Układ cegieł w warstwach fragmentu ścianki działowej (rzuty)



Rysunek 3. Widok A-A fragmentu ścianki działowej



Rysunek 4. Usytuowanie powierzchni tynku cienkowarstwowego na ścianie (widok)

## Specyfikacja techniczna wykonania i odbioru robót budowlanych (wyciąg)

### Wymagania dotyczące robót murarskich:

1. Dopuszczalne odchylenie położenia i wymiarów ścianki działowej wynosi  $\pm 10$  mm.
2. Grubość spoin pionowych powinna wynosić 10 mm  $\pm 5$  mm.
3. Grubość spoin poziomych powinna wynosić 12 mm +3 mm, -2 mm.
4. Zaprawa w spoinach **nie powinna** dochodzić do lica muru, niezapełniona część spoiny powinna wynosić 10-15 mm.
5. W kolejnych warstwach ścianki działowej cegły powinny być ułożone z przewiązaniem spoin.
6. Cegły ułamkowe powinny być ułożone dociętymi płaszczyznami do wnętrza muru.
7. Ostatnia warstwa cegieł powinna być pozioma, dopuszczalne odchylenie górnej powierzchni od poziomu wynosi 3 mm/m.
8. Dopuszczalne odchylenie od pionu powierzchni bocznych i krawędzi ścianki działowej wynosi 4 mm/m, ale nie więcej niż 2 mm na całej wysokości ścianki.
9. W narożach powinny być zachowane kąty proste.

### Wymagania dotyczące robót tynkarskich:

1. Dopuszczalne odchylenie położenia i wymiarów powierzchni tynku wynosi  $\pm 10$  mm.
2. Tynk powinien przylegać do podłoża na całej powierzchni.
3. Grubość tynku powinna być równa grubości kruszywa.
4. Nałożona warstwa tynku powinna całkowicie pokrywać podłoże.
5. W nałożonej warstwie tynku nie powinny występować zagłębienia, wypukłości oraz ślady packi.
6. Nałożona warstwa tynku powinna posiadać wykończenie o fakturze baranka.
7. Na powierzchni tynku niedopuszczalne są:
  - prześwity i spękania,
  - wypryski i spęcznienia,
  - miejscowe różnice faktury powierzchni.
8. Krawędzie odcięcia powierzchni tynkowanej powinny stanowić linie proste.

**Czas przeznaczony na wykonanie zadania wynosi 210 minut.**

### Ocenie podlegać będą 2 rezultaty:

- fragment ścianki działowej,
- tynk cienkowarstwowy mineralny o fakturze baranka

oraz

przebieg wykonania fragmentu ścianki działowej i tynku cienkowarstwowego mineralnego o fakturze baranka.

[www.EgzaminZawodowy.info](https://www.EgzaminZawodowy.info)