

**Arkusze zawiera informacje prawnie  
chronione do momentu rozpoczęcia egzaminu**

Układ graficzny © CKE 2019

**CKE** **CENTRALNA  
KOMISJA  
EGZAMINACYJNA**

Nazwa kwalifikacji: **Wykonywanie usług krawieckich**

Oznaczenie kwalifikacji: **A.12**

Wersja arkusza: **SG**

**A.12-SG-20.01**

Czas trwania egzaminu: **60 minut**

## **EGZAMIN POTWIERDZAJĄCY KWALIFIKACJE W ZAWODZIE**

**Rok 2020**

**CZĘŚĆ PISEMNA**

**PODSTAWA PROGRAMOWA  
2012**

### **Instrukcja dla zdającego**

1. Sprawdź, czy arkusz egzaminacyjny zawiera 10 stron. Ewentualny brak stron lub inne usterki zgłoś przewodniczącemu zespołu nadzorującego.
2. Do arkusza dołączona jest KARTA ODPOWIEDZI, na której w oznaczonych miejscach:
  - wpisz oznaczenie kwalifikacji,
  - zamaluj kratkę z oznaczeniem wersji arkusza,
  - wpisz swój numer PESEL\*,
  - wpisz swoją datę urodzenia,
  - przyklej naklejkę ze swoim numerem PESEL.
3. Arkusz egzaminacyjny zawiera test składający się z 40 zadań.
4. Za każde poprawnie rozwiązane zadanie możesz uzyskać 1 punkt.
5. Aby zdać część pisemną egzaminu musisz uzyskać co najmniej 20 punktów.
6. Czytaj uważnie wszystkie zadania.
7. Rozwiązania zaznaczaj na KARCIE ODPOWIEDZI długopisem lub piórem z czarnym tuszem/atramentem.
8. Do każdego zadania podane są cztery możliwe odpowiedzi: A, B, C, D. Odpowiada im następujący układ krerek w KARCIE ODPOWIEDZI:

A	B	C	D
---	---	---	---

9. Tylko jedna odpowiedź jest poprawna.
10. Wybierz właściwą odpowiedź i zamaluj kratkę z odpowiadającą jej literą – np., gdy wybrałeś odpowiedź „A”:

<input checked="" type="checkbox"/>	B	C	D
-------------------------------------	---	---	---

11. Staraj się wyraźnie zaznaczać odpowiedzi. Jeżeli się pomylisz i błędnie zaznaczysz odpowiedź, otocz ją kółkiem i zaznacz odpowiedź, którą uważasz za poprawną, np.

<input checked="" type="checkbox"/>	B	C	<input checked="" type="checkbox"/>
-------------------------------------	---	---	-------------------------------------

12. Po rozwiązaniu testu sprawdź, czy zaznaczyłeś wszystkie odpowiedzi na KARCIE ODPOWIEDZI i wprowadziłeś wszystkie dane, o których mowa w punkcie 2 tej instrukcji.

**Pamiętaj, że oddajesz przewodniczącemu zespołu nadzorującego tylko KARTĘ ODPOWIEDZI.**

***Powodzenia!***

\* w przypadku braku numeru PESEL – seria i numer paszportu lub innego dokumentu potwierdzającego tożsamość

### Zadanie 1.

Które symbole oznaczają pomiary ciała wykonywane wzdłuż linii przylegających dookoła mierzonych jego części?

- A. os, opx
- B. PcPl, XcXc
- C. XIXl, XcXl
- D. SyTy, SySvXpTp

### Zadanie 2.

Który symbol oznacza wymiar ciała mierzony w kierunku pionowym od punktu karkowego do punktu tylnego talii?

- A. SyTy
- B. SySvXp
- C. SvXpTp
- D. SySvXpTp

### Zadanie 3.

Do wykończenia których elementów wyrobu odzieżowego należy zastosować podszewkę najczęściej z jedwabiu wiskozowego, tkaną w szerokie białe i wąskie czarne paski?

- A. Kieszeni.
- B. Rękawów.
- C. Nogawek spodni.
- D. Przodów żakietów.

### Zadanie 4.

Którą tkaninę należy zastosować do uszycia całorocznej spódnicy damskiej podstawowej?

- A. Tenis.
- B. Loden.
- C. Flausz.
- D. Szyfon.

### Zadanie 5.

Którą tkaninę należy zastosować do uszycia sukni wieczorowej przedstawionej na rysunku?

- A. Taftę.
- B. Batyst.
- C. Teksas.
- D. Etaminę.



### Zadanie 6.

Które wymiary, poza wymiarami ciała klientki, należy wziąć pod uwagę do obliczenia zużycia materiału przeznaczonego na gładką bluzkę damską?

- A. Długość bluzki, długość rękawa.
- B. Długość bluzki, wzrost, długość rękawa.
- C. Długość bluzki, obwód klatki piersiowej, wzrost.
- D. Obwód klatki piersiowej, długość rękawa, obwód bioder.

### Zadanie 7.

Określ zużycie gładkiej tkaniny o szerokości 90 cm, z której uszyto spodnie damskie podstawowe dla klientki o wymiarach przedstawionych w tabeli.

- A. 104,00 cm
- B. 114,40 cm
- C. 208,00 cm
- D. 228,80 cm

Nazwa wymiaru	Wymiar
Obwód talii	74 cm
Obwód bioder	108 cm
Długość spodni	104 cm

### Zadanie 8.

Obliczając normę zużycia materiału o szerokości 140 cm przeznaczonego na płaszcz kąpielowy z kapturem należy uwzględnić następujące wymiary: długość płaszcza oraz

- A. wzrost i obwód bioder.
- B. wzrost i obwód klatki piersiowej.
- C. długość rękawa i wysokość kaptura.
- D. długość rękawa i obwód klatki piersiowej.

### Zadanie 9.

W bluzce przedstawionej na rysunku konstrukcyjną zaszwękę piersiową przeniesiono na linię

- A. boku.
- B. podkroju szyi.
- C. podkroju pachy.
- D. środka przodu.



### Zadanie 10.

Szablon odzieżowy to forma modelowa, w której uwzględniono

- A. linie pomocnicze i konturowe.
- B. dodatki na szwy i podwinięcia.
- C. punkty konstrukcyjne i montażowe.
- D. dodatki konstrukcyjne i technologiczne.

### Zadanie 11.

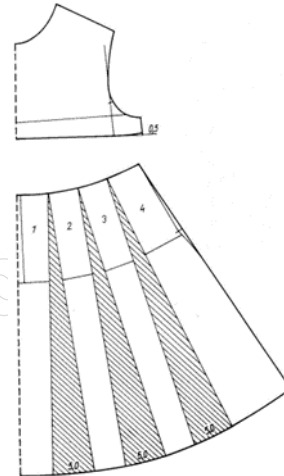
Kołnierz leżący be-be modelowany jest na podstawie

- A. formy tyłu.
- B. formy przodu.
- C. form przodu i tyłu.
- D. wykreślonego kąta prostego.

### Zadanie 12.

Przedstawioną na rysunku formę przodu sukienki otrzymano poprzez modelowanie

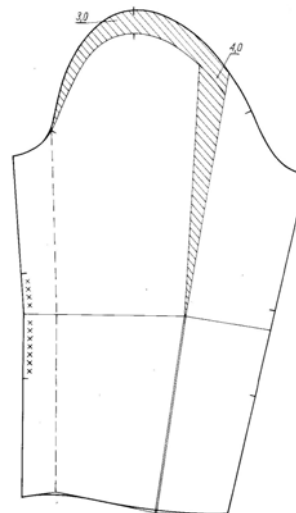
- A. konfekcyjne.
- B. przestrzenne.
- C. za pomocą siatki konstrukcyjnej.
- D. za pomocą formy konstrukcyjnej.



### Zadanie 13.

Na rysunku przedstawiono modelowanie rękawa

- A. poszerzonego dołem.
- B. zwężonego dołem z bufką.
- C. poszerzonego od linii łokcia do dołu.
- D. zmarszczonego z wysokim mankietem.



### Zadanie 14.

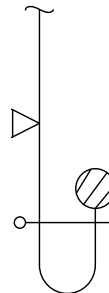
Na której tkaninie można układać szablony wyrobów odzieżowych w dwóch kierunkach?

- A. Na flauszu.
- B. Na sztruksie.
- C. Na popelinie.
- D. Na aksamicie.

### Zadanie 15.

Które maszyny należy zastosować do wykonania obrębu w spódnicy zgodnie z przedstawionym rysunkiem?

- A. Pikówkę, overlock.
- B. Ryglówkę, overlock.
- C. Stębnówkę, overlock.
- D. Łańcuszkową, overlock.



### Zadanie 16.

Którą maszynę należy zastosować do wykonania dziurek w koszuli męskiej?

- A. Guzikarkę.
- B. Ryglówkę.
- C. Dziurkarkę bieliznianą.
- D. Dziurkarkę odzieżową.

### Zadanie 17.

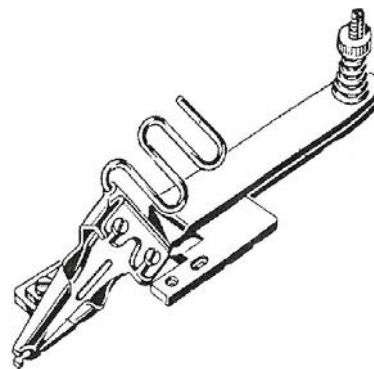
Którą maszynę stosuje się do niewidocznego łączenia wkładów nośnych z przodami marynarek męskich?

- A. Pikówkę.
- B. Ryglówkę.
- C. Fastrygówkę.
- D. Zygzakówkę.

### Zadanie 18.

Przyrząd pomocniczy przedstawiony na rysunku można zastosować do wykonania na stębnówce

- A. podwinięcia dołu spódnicy.
- B. naszycia sutaszu na przód kamizelki.
- C. wszycia gumy w spodniach dresowych.
- D. obszycia taśmą krawędzi dekoltu bluzki.



### Zadanie 19.

Stopkę specjalną przedstawioną na rysunku można zastosować do wykonania na stębnówce

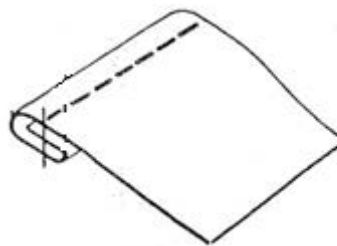
- A. naszycia taśmy na szal.
- B. wszycia zamka do spodni.
- C. marszczenia karczka w sukience.
- D. wykonania obrębu krawędzi apaszki.



### Zadanie 20.

Który przyrząd należy zastosować do wykonania na stębnówce szwu przedstawionego na rysunku?

- A. Linijkę.
- B. Prasulec.
- C. Zwijacz.
- D. Lamownik.



### Zadanie 21.

Oslona igły zamontowana na maszynie stębnowej stanowi podczas szycia zabezpieczenie przed

- A. przeszyciem palca.
- B. przygnieceniem rąk.
- C. odprysnięciem złamanej igły.
- D. wysuwaniem się igły z igielnicy.

### Zadanie 22.

Aby zapobiec zrywaniu się nici górnej podczas szycia na stębnówce, należy między innymi

- A. zwiększyć docisk sprężynki kompensacyjnej.
- B. nie polerować elementów roboczych maszyny.
- C. przewlekać nić przez prowadniki w sposób dowolny.
- D. stosować nić o odpowiedniej wytrzymałości i grubości.

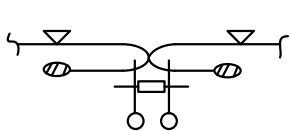
### Zadanie 23.

Przyczyną łamania się igły w czasie szycia może być

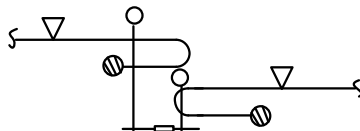
- A. zużycie ząbków transportera.
- B. zastosowanie nici złej jakości.
- C. niewłaściwy docisk materiału.
- D. niewłaściwe założenie bębna.

### Zadanie 24.

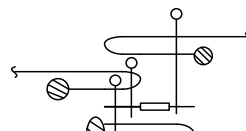
Na którym rysunku przedstawiono technikę wszycia kryto zamka błyskawicznego?



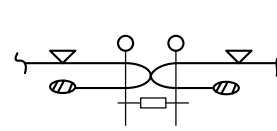
A.



B.



C.



D.

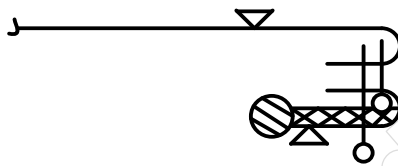
### Zadanie 25.

Dół spódnicy przedstawionej na rysunku jest wykończony obrębem z obrzuconym brzegiem podszytym ścięciem

- A. krytym.
- B. stębnowym.
- C. zygzakowym.
- D. łańcuszkowym.



### Zadanie 26.

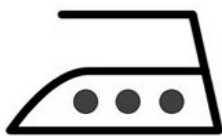


Wykończenie plisą pokroju pachy w bluzce zgodnie z przedstawionym rysunkiem instruktażowym, obejmuje wykonanie w kolejności technologicznej następujących czynności:

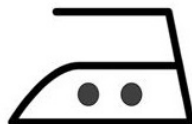
- A. obrzucenie krawędzi plisy, podklejenie plisy, wykonanie stębnowania, doszycie plisy do podkroju.
- B. podklejenie plisy, obrzucenie krawędzi plisy, doszycie plisy do podkroju, przewinięcie plisy, wykonanie stębnowania.
- C. podklejenie plisy, wykonanie stębnowania, doszycie plisy do podkroju, obrzucenie krawędzi plisy.
- D. doszycie plisy do podkroju, obrzucenie krawędzi plisy, podklejenie plisy, wykonanie stębnowania.

### Zadanie 27.

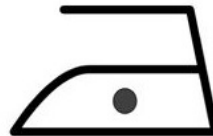
Który z przedstawionych znaków informacyjnych powinien zamieścić producent na wszywce wyrobu odzieżowego wykonanego z materiału o zalecanej maksymalnej temperaturze prasowania 150°C?



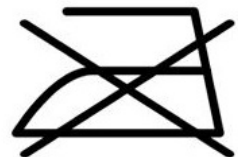
A.



B.



C.



D.

### Zadanie 28.

W warunkach domowych spodnie wełniane, w których wszywka jest nieczytelna, należy prasować żelazkiem nagrzanym do maksymalnej temperatury

- A. 180°C
- B. 150°C
- C. 120°C
- D. 110°C

### Zadanie 29.

Przyczyną błędu występującego w bluzce przedstawionej na rysunku jest niewłaściwe zestawienie przodów na linii ramion i przody

- A. za długie.
- B. za wąskie.
- C. za krótkie.
- D. za szerokie.



### Zadanie 30.

W spódnicy, która ma za mały podkrój na linii talii w przodzie lub jest za wąska w biodrach powstają fałdy

- A. poziome w tyle.
- B. poziome w przodzie.
- C. ukośne zwrócone w kierunku linii środka tyłu.
- D. ukośne zwrócone w kierunku linii środka przodu.

### Zadanie 31.

W spodniach przedstawionych na rysunku

- A. przody są za długie w stosunku do tyłu.
- B. tyły są za długie w stosunku do przodów.
- C. przody są za szerokie w stosunku do tyłu.
- D. tyły są za wąskie w stosunku do przodów.



### Zadanie 32.

Kołnierz leżący, gładko układający się na ramionach, okrągły i odsłaniający szyję, stosowany najczęściej w odzieży dziecięcej, to kołnierz

- A. be-be.
- B. koszulowy.
- C. napoleoński.
- D. marynarkowy.

### Zadanie 33.

Wykonując przeróbkę polegającą na poszerzeniu dołu sukni princeski, należy rozpruć szwy na linii cięć pionowych w dolnej części przodu i tyłu i wszyć

- A. kryzę.
- B. wolant.
- C. godety.
- D. baskinkę.

### Zadanie 34.

Który wymiar kontrolny należy zdjąć z figury z wadami postawy ciała w celu dopasowania formy przodu bluzki damskiej do sylwetki?

- A. PcPl
- B. XIXl
- C. SyTy
- D. SvXpTp

### Zadanie 35.

Jednym ze sposobów usunięcia fałd występujących w tyle bluzki przedstawionej na rysunku jest

- A. skrócenie tyłu górą.
- B. wydłużenie tyłu górą.
- C. zwężenie tyłu na linii talii.
- D. poszerzenie tyłu na linii talii.



### Zadanie 36.


Za głęboki podkroj spodni można poprawić między innymi poprzez

- A. pogłębienie podkroju w tyle.
- B. ścięcie przodu i tyłu w górze.
- C. pogłębienie podkroju w przodzie.
- D. doszycie karczka w przodzie i tyle.

### Zadanie 37.

W jaki sposób można usunąć błąd występujący w spódnicy przedstawionej na rysunku?

- A. Poszerzyć przód na linii talii.
- B. Poszerzyć przód na linii bioder.
- C. Pogłębić podkrój na linii talii w przodzie.
- D. Podwyższyć podkrój na linii talii z przodu.



### Zadanie 38.

Ile zapłaci klientka za uszycie spódnicy przedstawionej na rysunku, jeżeli w zakładzie obowiązuje cennik usług przedstawiony w tabeli?

- A. 70,00 zł
- B. 90,00 zł
- C. 100,00 zł
- D. 110,00 zł



Cennik usług

Rodzaj usługi	Cena
Uszycie spódnicy podstawowej	70,00 zł
Uszycie spódnicy fantazyjnej: z karczkiem, asymetrycznej	90,00 zł
Uszycie spódnicy fantazyjnej: kloszowej, poszerzanej	100,00 zł
Uszycie spódnicy fantazyjnej: solejka, plisowana, z zakładkami	110,00 zł

### Zadanie 39.

Przeróbka spodni polega na ich skróceniu i doszyciu mankietów wykonanych z odciętych kawałków nogawek zapinanych na 1 guzik. Cena 1 guzika wynosi 1,50 zł, a koszt robocizny oszacowano na 47,00 zł. Jaka będzie cena wykonania przeróbki?

- A. 47,00 zł
- B. 48,50 zł
- C. 50,00 zł
- D. 53,50 zł

### Zadanie 40.

Klientka o wymiarach 164/72/96 zleciła uszycie spódnicy podstawowej o długości 50 cm. Jaki będzie koszt uszycia spódnicy z tkaniny o szerokości 150 cm, wełnianej gładkiej pobranej z magazynu, jeśli cena 1 metra tkaniny wynosi 40,00 zł i koszt robocizny 70,00 zł (koszt robocizny uwzględnia również koszty zużytych do uszycia wyrobu dodatków krawieckich).

- A. 92,00 zł
- B. 110,00 zł
- C. 114,00 zł
- D. 121,00 zł